

5	4	3	2	1	
					1
					2
				A	3
	C		B		4
					5

1- حدد موقع كل من انقاط الاتية

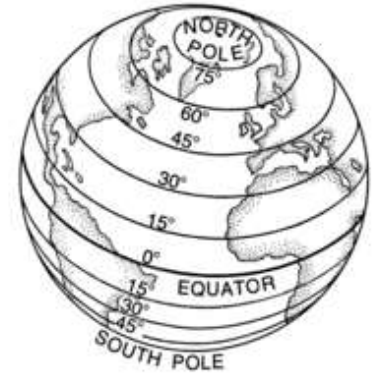
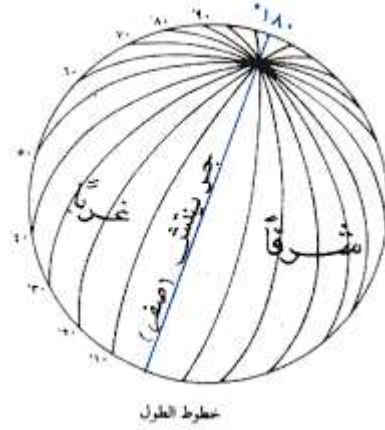
C-B-A

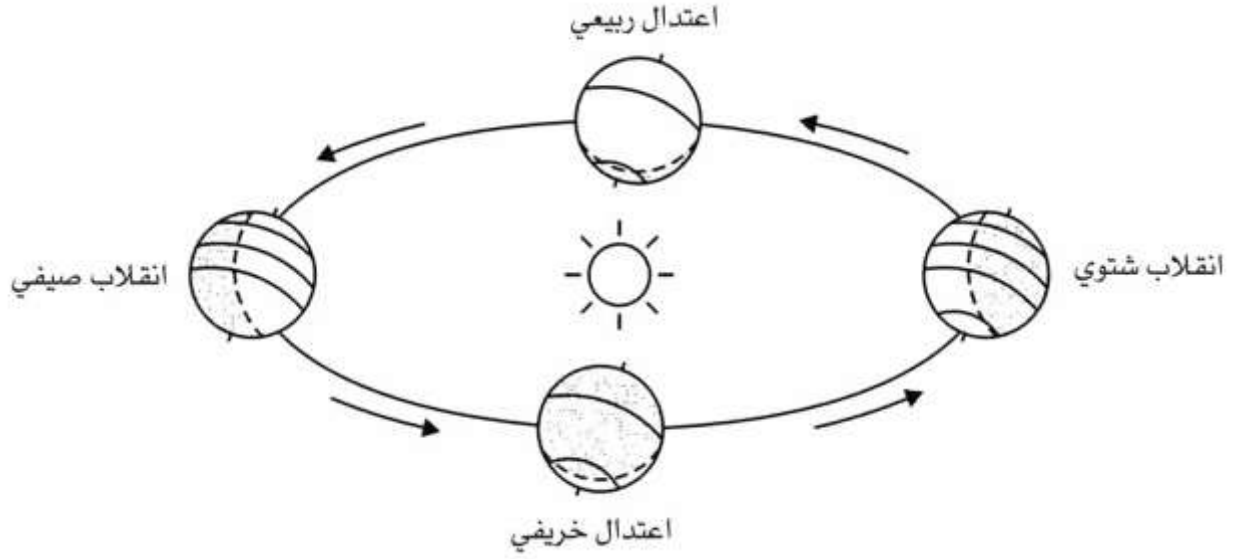
2- ما هي خطوط الطول ؟

3- ما هي اهمية خطوط الطول

4- ما هي دوائر العرض

5- ما هي اهمية دوائر العرض





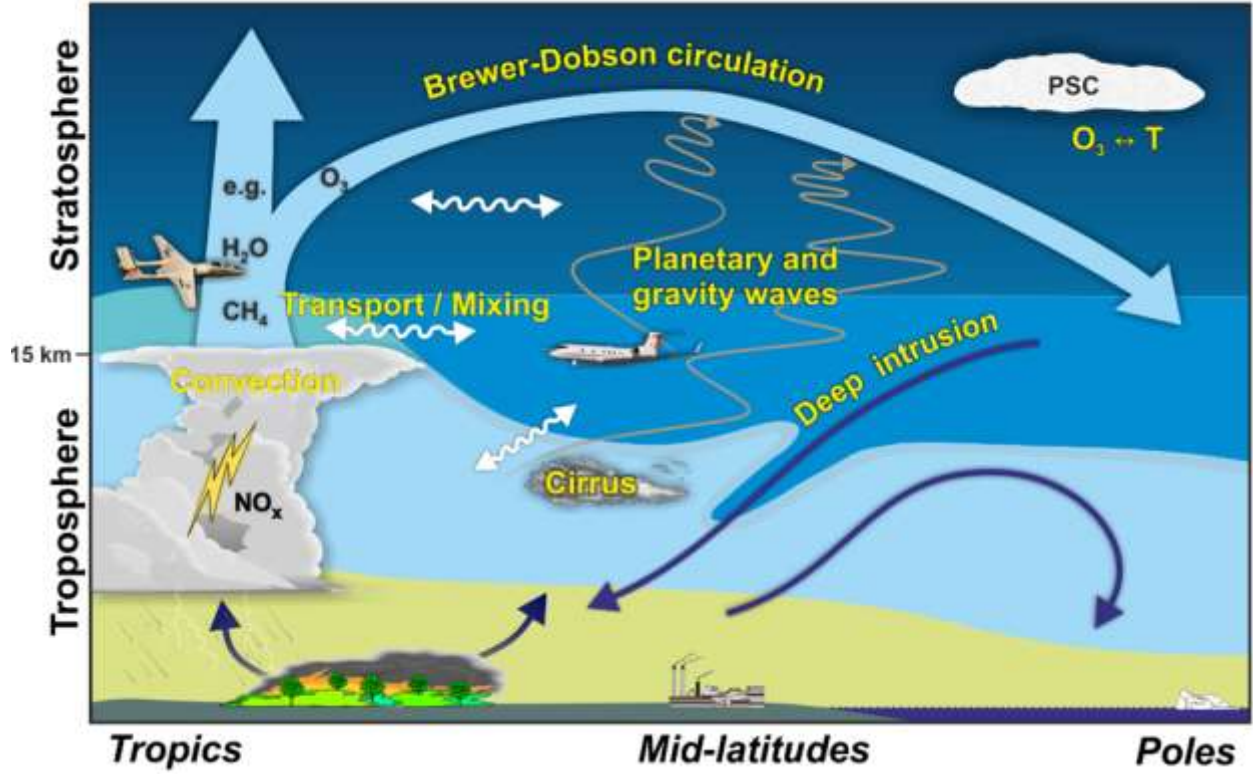
6- كيف تدور الارض حول نفسها؟ و ما هي مدة هذه الدورة؟

7- ما هي اهمية ميلان محور الارض؟

8- ما هي مدة دوران الارض حول الشمس؟ و ما هي المراحل التي تمر فيها خلال دورانها حول الشمس؟

9- في 21 حزيران اين تتعامد اشعة الشمس؟ و ماذا يحدث في هذا التاريخ

10 – في 22 كانون الاول اين تتعامد اشعة الشمس و ماذا يحدث في هذا التاريخ



11 - سم طبقات الغلاف الجوي بالترتيب

12- كم تشكل نسبة كل من غاز الازوت و غاز الاوكسجين في لىغلاف الجوي

13 - بين دور كل من بخار الماء و الاجسام الصلبة في الغلاف الجوي

14 بين دور ثاني اوكسيد الكربون و الاخطار الناجمة عن ارتفاع نسبته في الجو

15- بين اهمية الاوزون و الاثار السلبية الناجمة عن تاكل الاوزون